



# 4. SINIF DİKKAT EGZERSİZLERİ



Aşağıdaki kutucuklarda kaç tane "6996" vardır.

**SÜRE: 30 SANİYE**

6999

9996

9666

6969

6996

9999

6696

9966

6999

9696

6699

9969

6966

6996

9669

6666

6999

6966

6969

9696

6669

6996

9996

6996


6966

9999

6666

6999

Aşağıda verilmiş olan kelebeklerden **EN ÇOK**  
**tekrar** eden kelebek **kaç kez** tekrar etmiştir ?  
**SÜRE: 2 DAKİKA**



Aşağıdaki kutucuklarda verilen **15 sözcüğe**  
**30 SANİYE** baktıktan sonra **bir sonraki sayfaya** geçiniz.

FİKİR	KAĞIT	PEYZAJ	BULUT	KİTAP
ÜÇGEN	SİLGİ	BARDAK	PORTAKAL	KÖPEK
EKRAN	BAŞARI	DENİZ	YEŞİL	SANDALYE

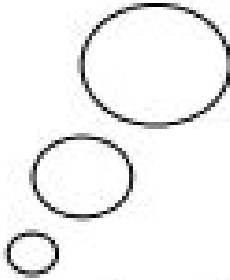

Aşağıda 40 sözcük içerisinde  
BİR ÖNCEKİ SAYFADA  
okuduğunuz 15 sözcüğü bulunuz.  
SÜRE: 2 DAKİKA

YEŞİL	ZIMBA	BARDAK	KLAVYE	DENİZ
TAHTA	KAĞIT	EKRAN	BOYNUZ	TABLET
İNSAN	BAŞ	ANAHTAR	KALEM	KİTAP
SİLGİ	SAYFA	SANDALYE	PENCERE	MASA
DOĞA	GEYİK	PAPATYA	DÜŞÜNCE	YAPRAK
MÜREKKEP	BEYİN	PORTAKAL	FİKİR	BULUT
BAHÇE	ÜÇGEN	YÜZ	KÖPEK	ERİK
PEYZAJ	BAŞARI	GÖKYÜZÜ	BİLGİSAYAR	ZİHİN

Aşağıdaki bulut üzerinde bulunan resimlerin hepsinin

bir arada olduğu satırı bulunuz.


**SÜRE: 1 DAKİKA**



1




2




3



4



5



Aşağıdaki şehirlerin **alfabetik sıralaması** hangi seçenekte doğru verilmiştir?  
**SÜRE: 3 DAKİKA**



ANTALYA



AFYONKARAHİSAR



ADANA



ANKARA



AYDIN



ARTVİN



AMASYA



AĞRI



ADİYAMAN



AKSARAY

A



B



C



D




Aşağıdaki resimlere **20 saniye** baktıktan  
sonra **bir sonraki sayfayı** çeviriniz.

1



2



3



4





Aşağıda verilen resimlerden hangileri bir önceki sayfada

yer almaktadır ?

**SÜRE: 30 SANİYE**

1



1



2



3



4

2



1



2




3



4

3




1



2



3



4

4



1



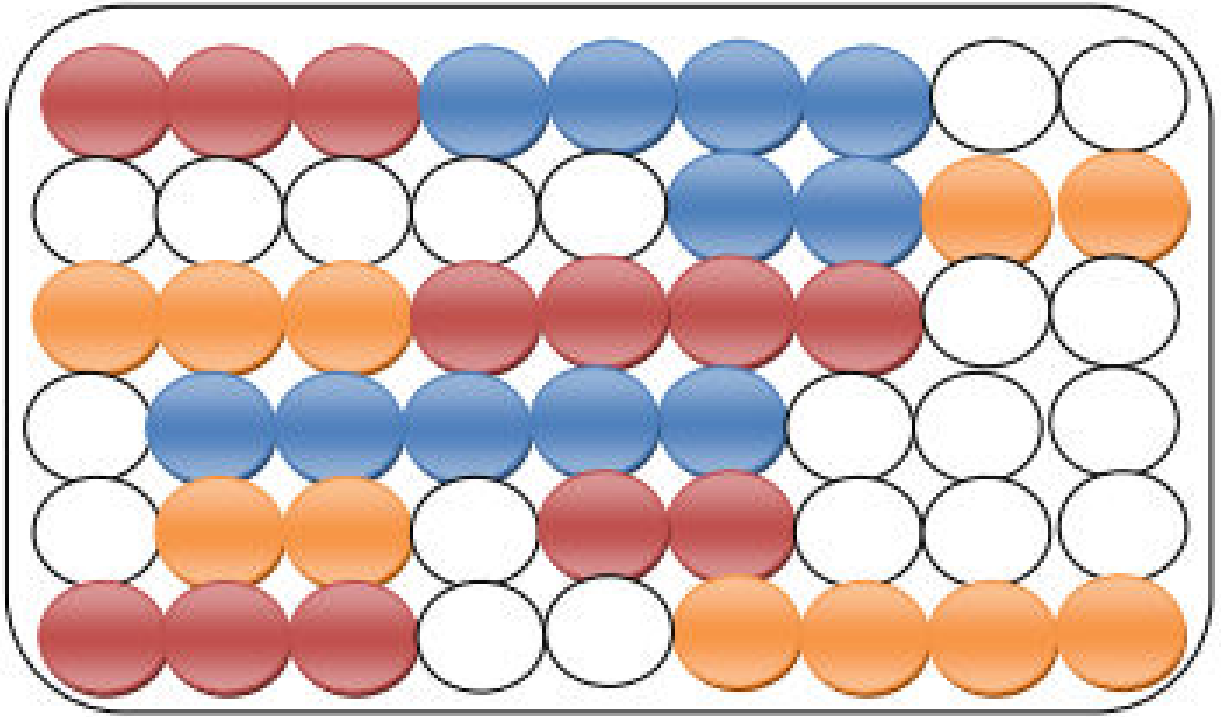
2



3

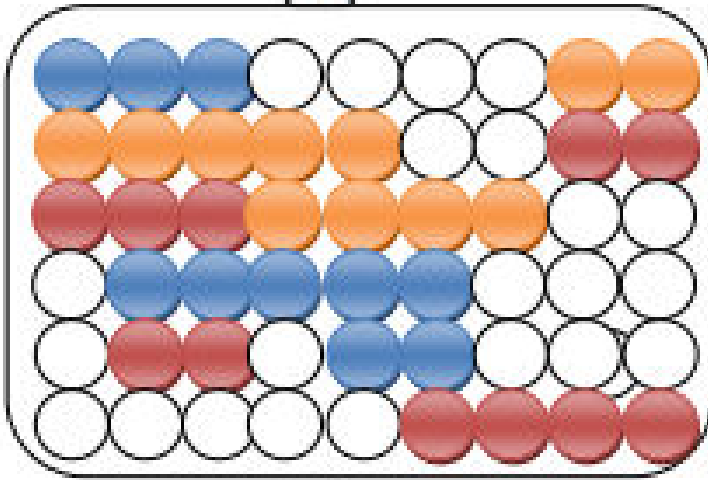


4

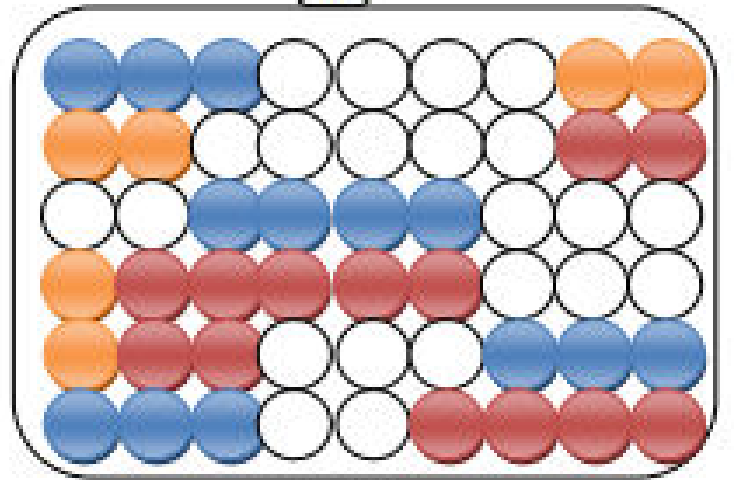


Yukarıdaki boncuklardan turuncular kırmızıya, kırmızılar maviye, maviler beyaza, beyazlar turuncuya boyanırsa aşağıdaki seçeneklerden hangisi oluşur. İdk

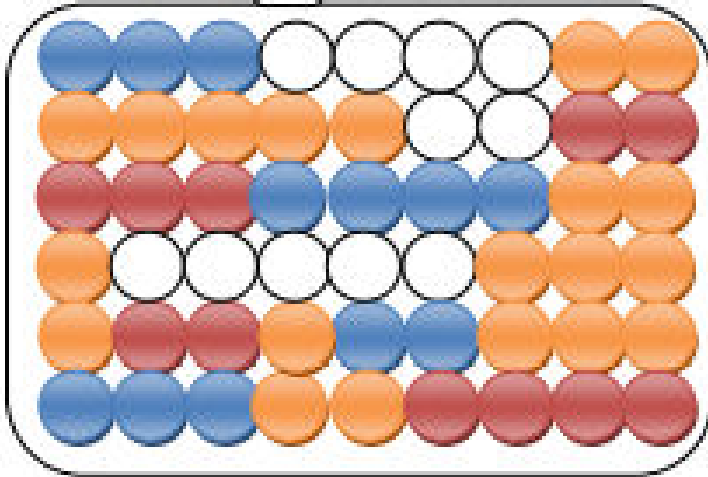
1



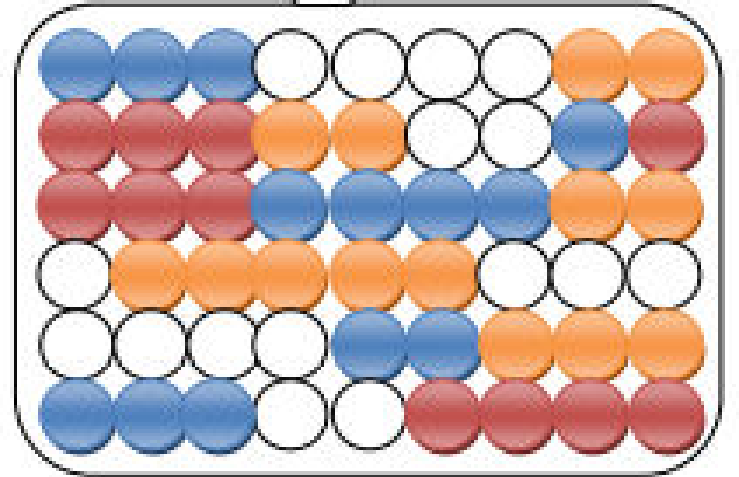
2

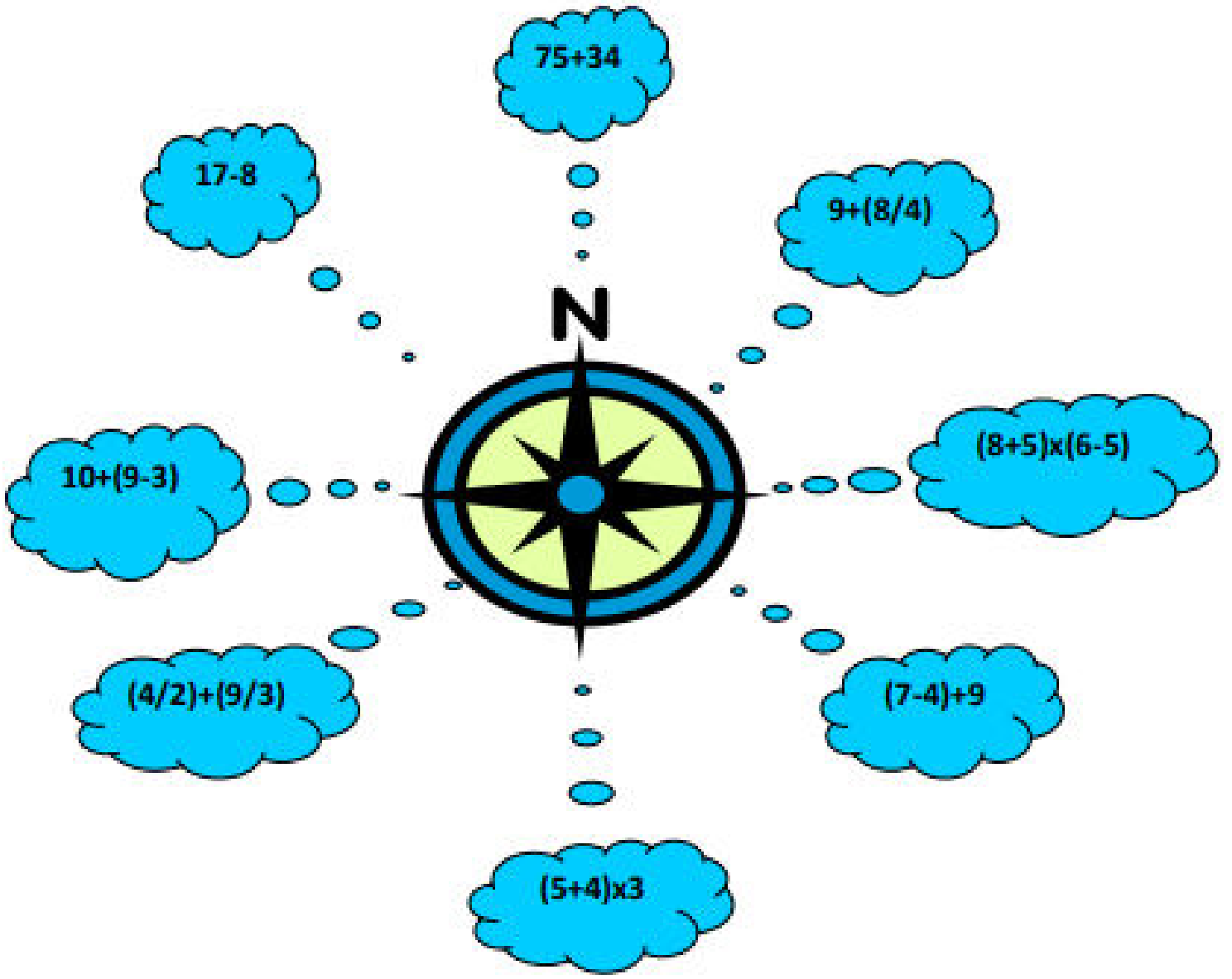


3



4





Yukarıdaki bulutlarda ki matematik işlemlerini yapıp cevaplarını aşağıdaki yön adlarıyla eşleştiriniz.

Kuzey:	13
Güney :	5
Doğu :	9
Batı:	13
Güneydoğu:	27
Kuzeydoğu:	13
Güneybatı:	109
Kuzeybatı:	16

**SÜRE: 3 DAKİKA**

# K A Y N A K  A

Amerikan Psikiyatri Birlięi(2000)

DSM-IV-TR Tanı Ölçütleri Başvuru Kitabı.(Çeviren:Prof. Dr. Ertuęrul KÖROęLU)  
(Ankara: Hekimler Yayın Birlięi.)

Hayta,Kemal H.(2001).Biraz Hiperaktifiz Galiba. İstanbul: Timaş Yayınevi.

Kılıç, Gülderen; Tunca, Özlem Özden(2000). Yaratıcı ve Görsel Etkinliklerle  
Uygulamalı Dikkat Geliştirme. İstanbul: Yapa Yayınevi.

